


Allgemeine Musiklehre


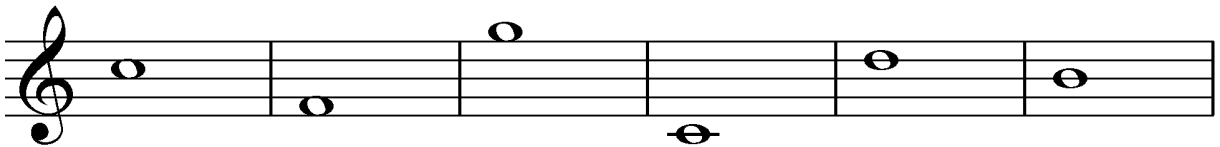
2.Hausübung

Name: _____

1. Schreibe eine Zeile leere Notenköpfe auf, unter oder über verschiedene Hilfslinien!



2. Benenne die Noten in deinem Schlüssel mit Namen und Oktavraum!



3. Nenne drei Zupfinstrumente!

a. _____

b. _____

c. _____

Beurteilung: _____