


# Allgemeine Musiklehre

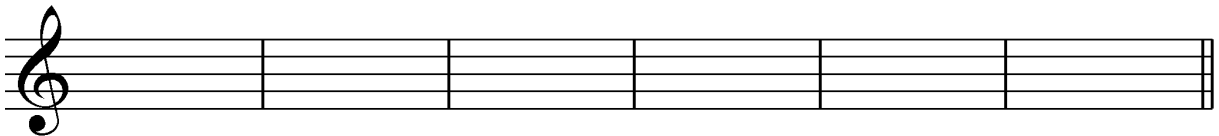
## 4. Hausübung

Name: \_\_\_\_\_

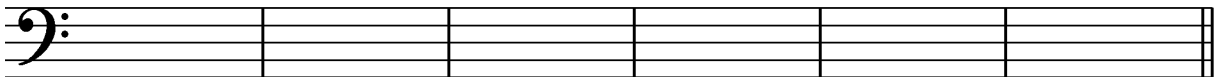
1. Benenne die Noten in deinem Schlüssel mit Namen und Oktavraum!



2. Schreibe die unten stehenden Tonhöhen in deinem Schlüssel als Halbe Noten!




f<sup>1</sup>                      e<sup>2</sup>                      c<sup>1</sup>                      d<sup>2</sup>                      d<sup>1</sup>                      c<sup>2</sup>



G                      A                      d                      H                      c<sup>1</sup>                      h

3. Schreibe die angegebenen Pausen!



Viertelpause              ganze Pause              Sechzehntel Pause              halbe Pause              Achtelpause

4. Nenne drei Blechblasinstrumente!

a. \_\_\_\_\_ b. \_\_\_\_\_ c. \_\_\_\_\_

5. Was bedeuten folgende Spielanweisungen!

D.C. al Fine	Da Capo al Fine	
D.S. al Coda	Dal Segno al Coda	

Beurteilung: \_\_\_\_\_