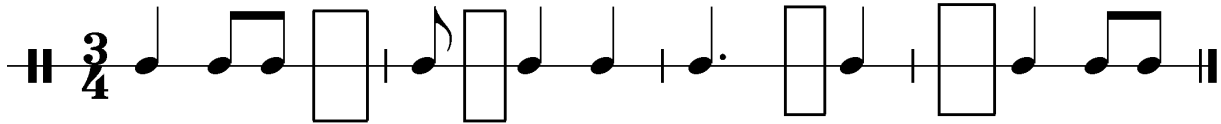


Allgemeine Musiklehre

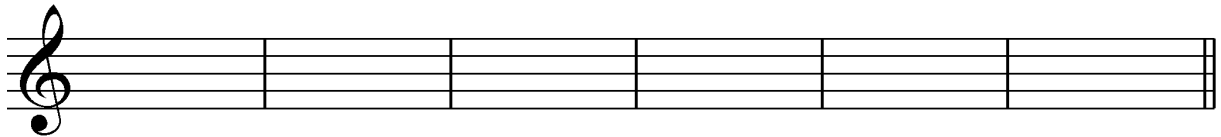
6.Hausübung

Name: _____

1. Füge in jedes Kästchen den fehlenden Notenwert ein!



2. Schreibe die unten stehenden Tonhöhen in deinem Schlüssel als Achtelnoten!



dis¹

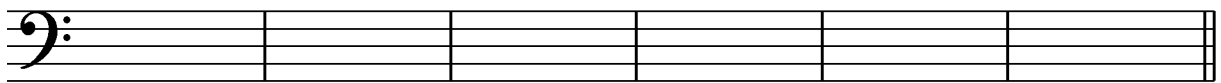
es²

h¹

ges²

cis¹

f²



Dis

es

H

ges

Cis

f

3. Erkläre folgende Tempobezeichnungen!

andante	
moderato	
allegro	

4. Nenne drei Schlaginstrumente mit bestimmter Tonhöhe!

a. _____ b. _____ c. _____

Beurteilung: _____