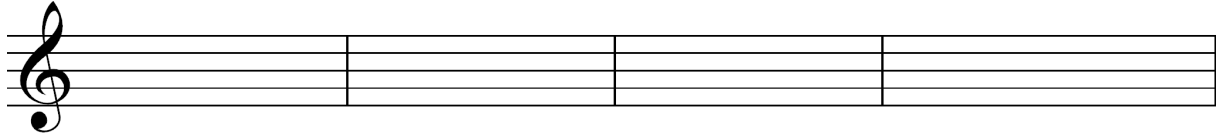


Allgemeine Musiklehre

8.Hausübung

Name: _____

1. Schreibe die unten stehenden Tonhöhen in deinem Schlüssel als Sechzehntelnoten!



cis¹

es²

des²

fis²




Cis

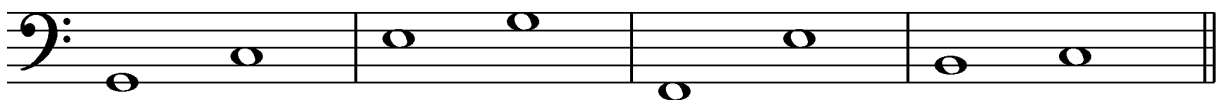
es

des

Fis

2. Bestimme die Intervalle in deinem Schlüssel mit der Intervallbezeichnung!





3. Nenne drei elektronische Musikinstrumente!

a. _____ b. _____ c. _____

Beurteilung: _____