


Allgemeine Musiklehre

9. Hausübung

Name: _____

1. Bilde in deinem Schlüssel folgende Intervalle aufwärts, indem du die zweite Note einfügst!



Quart

Sext

Terz

Oktave



Quart

Sext






Terz

Oktave

2. Nenne drei elektronische Musikinstrumente!

a. _____ b. _____ c. _____

3. Erkläre folgende Artikulationen!

	staccato	
	tenuto	
	non legato	
	legato	
	marcato	

Beurteilung: _____