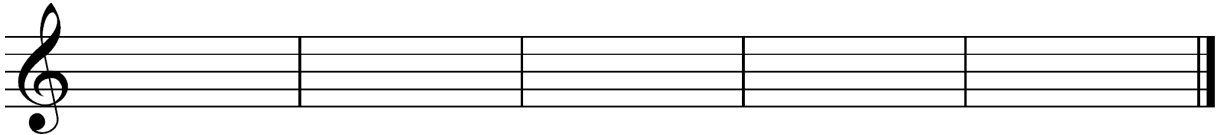


# Musikkunde 1

## 2.Hausübung



Name: \_\_\_\_\_

1. Schreibe folgende Pausenwerte je zweimal!

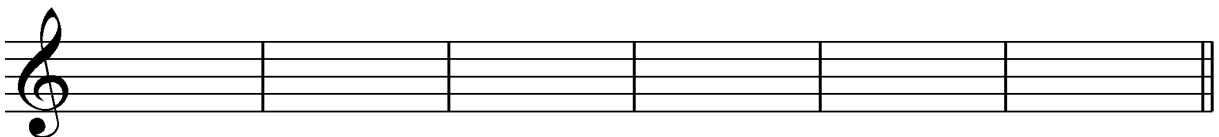


ganze Pause      halbe Pause      Viertelpause      Achtelpause      Sechzehntelpause


2. Benenne die Noten in deinem Schlüssel mit Namen und Oktavraum!



3. Schreibe die unten stehenden Tonhöhen in deinem Schlüssel als ganze Noten im richtigen Oktavraum!



$g^2$        $f^1$        $c^2$       a       $c^3$        $d^1$



C      g       $e^1$       E      a      d

Beurteilung: \_\_\_\_\_