


Musikkunde 2


8.Hausübung

Name: _____


1. Setze deinen Notenschlüssel und schreibe die H-Dur Tonleiter in ganzen Noten auf- und abwärts, die Vorzeichen und bezeichne die Halbtonschritte!

A musical staff consisting of five horizontal lines, intended for writing the H-Dur scale.


2. Setze deinen Notenschlüssel und schreibe zu obiger Dur Tonleiter die parallele aeolische Molltonleiter in ganzen Noten auf- und abwärts, die Vorzeichen und bezeichne die Halbtonschritte!

A musical staff consisting of five horizontal lines, intended for writing the parallel Aeolian minor scale.

3. Setze deinen Notenschlüssel und schreibe zu obiger Dur Tonleiter die parallele harmonische Molltonleiter in ganzen Noten auf- und abwärts, die Vorzeichen und bezeichne die Halbtonschritte!

A musical staff consisting of five horizontal lines, intended for writing the parallel harmonic minor scale.

4. Setze deinen Notenschlüssel und schreibe zu obiger Dur Tonleiter die parallele melodische Molltonleiter in ganzen Noten auf- und abwärts, die Vorzeichen und bezeichne die Halbtonschritte!

A musical staff consisting of five horizontal lines, intended for writing the parallel melodic minor scale.

5. Erkläre folgende Bezeichnungen!

| | | |
|---------|-------------|--|
| | tempo primo | |
| allarg. | allargando | |
| accel. | accelerando | |

Beurteilung: _____