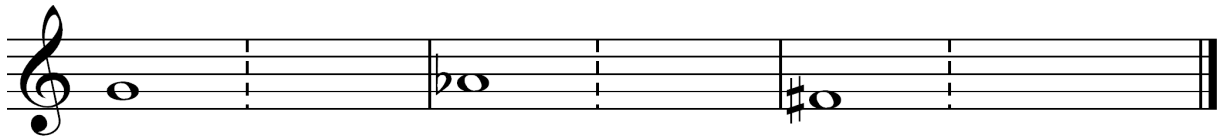


Musikkunde 2

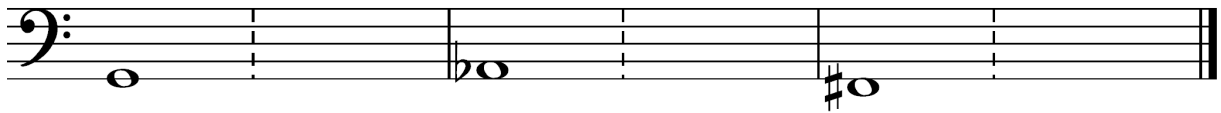
13.Hausübung

Name: _____

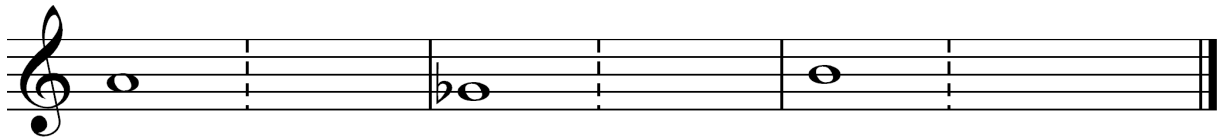
1. Bilde in deinem Schlüssel folgende Intervalle über der angegebenen Note, kehre diese um und benenne die Komplementärintervalle!



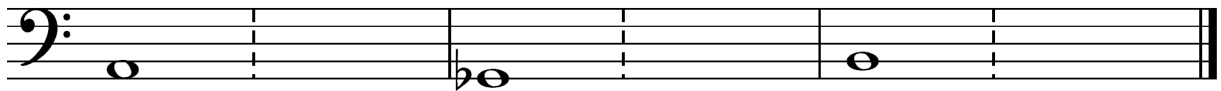
vm5 _____ gr7 _____ r4 _____



vm5 _____ gr7 _____ r4 _____



kl3 _____ üm6 _____ vm3 _____



kl3 _____ üm6 _____ vm3 _____

2. Erkläre folgende Bezeichnungen!

dolce	
scherzando	
animato	

Beurteilung: _____