


Musikkunde 3

7.Hausübung

Name: _____

1. Setze den Notenschlüssel und schreibe die Hauptstufen von folgenden Tonarten als Dreiklang!

D-Dur




Tonika

Dominante

Subdominante

Es-Dur




Tonika

Dominante

Subdominante

2. Schreibe die angegebenen Noten im Sopranschlüssel als Halbe Noten!



c³

a

as¹

gis²

3. Schreibe folgende Dreiklänge in Grundstellung!



2.Stufe in A-Dur

6.Stufe in B-Dur

3.Stufe in As-Dur

7.Stufe in G-Dur

Was ist ein Rondo?

Beurteilung: _____