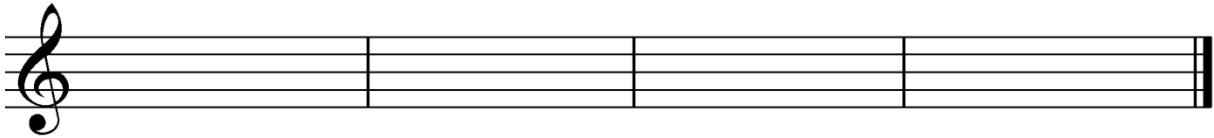


Musikkunde 3

8.Hausübung

Name: _____

1. Schreibe folgende Dreiklänge in Grundstellung!



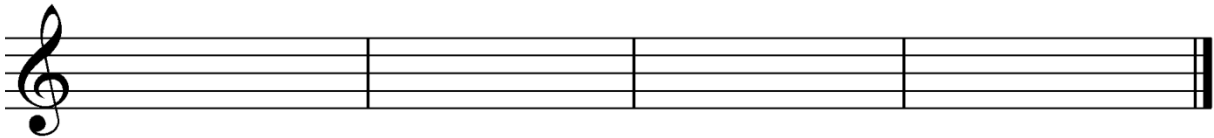
2.Stufe in A-Dur

6.Stufe in B-Dur

3.Stufe in As-Dur

7.Stufe in Fis-Dur

2. Bilde folgende Vierklänge in Grundstellung!




Großer
Durseptakkord
auf g

Kleiner
Mollseptakkord
auf a

Halbverminderter
Septakkord
auf f

Verminderter
Septakkord
auf e

3. Transponiere die folgende Melodie um eine kleine Terz nach unten! Schreibe vorher den Notenschlüssel und die neuen Vorzeichen!



4. Was ist eine Variation?

Beurteilung: _____