


Musikkunde 3

9. Hausübung

Name: _____

1. Bilde folgende Vierklänge in Grundstellung!




Großer Durseptakkord auf

Kleiner Mollseptakkord auf a

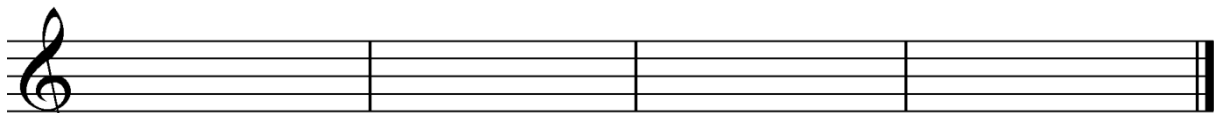
Halbverminderter Septakkord auf f

Verminderter Septakkord auf e

2. Bilde den Dominantseptakkord von A-Dur, bilde die Umkehrungen und benenne diese!



Bilde den Dominantseptakkord von c-Moll, bilde die Umkehrungen und benenne diese!



Was ist ein Walzer?

Beurteilung: _____