


# Musikkunde 3

## 10.Hausübung


Name: \_\_\_\_\_

1. Schreibe die einfache D-Dur Kadenz in Oktavlage mit Stufenbezeichnungen!



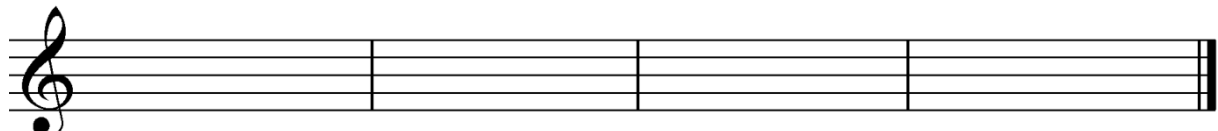
Stufen \_\_\_\_\_

2. Bilde folgende Vierklänge in Grundstellung!



Großer Durseptakkord auf as	Kleiner Mollseptakkord auf cis	Halbverminderter Septakkord auf d	Verminderter Septakkord auf h
-----------------------------	--------------------------------	-----------------------------------	-------------------------------

3. Bilde den Dominantseptakkord von A-Dur, bilde die Umkehrungen und benenne diese!



\_\_\_\_\_

4. Was ist ein Kanon?

---

---

---

---

Beurteilung: \_\_\_\_\_