


Musikkunde 3

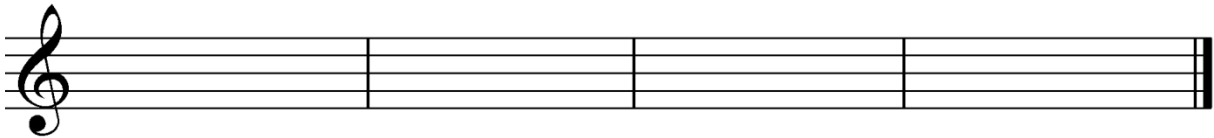
12.Hausübung

Name: _____

1. Schreibe die Es-Dur Kadenz in Quintlage!



2. Bilde in deinem Schlüssel die Dreiklänge der angegebenen Stufen in B-Dur!

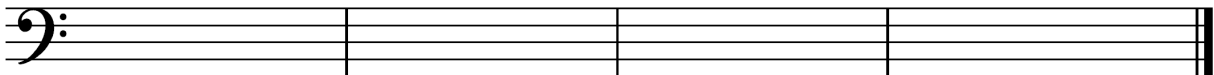


2.Stufe

4.Stufe

5.Stufe

7.Stufe



2.Stufe

4.Stufe

5.Stufe

7.Stufe

3. Was ist eine Sonatenhauptsatzform?

Beurteilung: _____