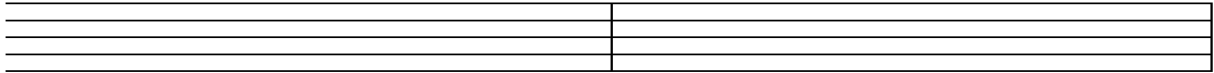


Musikkunde 3


4.Hausübung

Name: _____

1. Schreibe deinen Notenschlüssel und schreibe die pentatonische Skala auf dem Grundton a!



2. Schreibe die angegebenen Noten im Tenorschlüssel als Viertelnoten!




fis

A

gis¹

d¹


3. Setze deinen Notenschlüssel und bilde den D-Dur Dreiklang, die Umkehrungen und benenne diese mit Ziffern!




4. Setze deinen Notenschlüssel und schreibe folgende Kirchentonarten!

Dorisch auf a

Mixolydisch auf d



5. Erkläre die Liedform!



Beurteilung: _____